


ΚΥΚΛΟΦΟΡΙΚΟ ΣΥΣΤΗΜΑ



ΦΕ1: ΕΝΑΣ ΑΚΟΥΡΑΣΤΟΣ ΜΥΣ - Η ΚΑΡΔΙΑ



Πότε «χτυπά» η καρδιά σου πιο γρήγορα, όταν είσαι ήρεμος ή όταν κάνεις έντονες ασκήσεις;



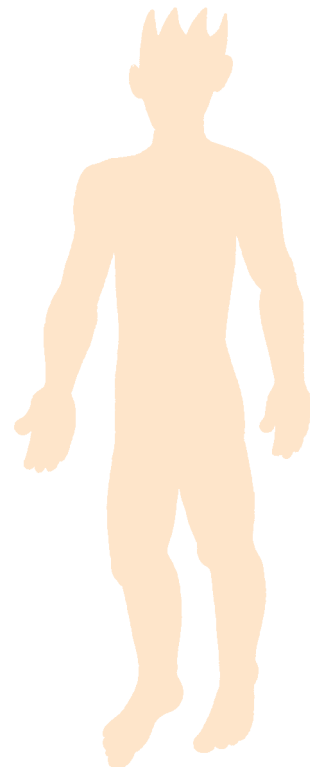
0 1 2 3 4 5 6 7 8 9 10 11 12 13 14

Πείραμα

Ακούμπησε την παλάμη σου στο αριστερό και στο δεξί μέρος του στήθους σου. Πού βρίσκεται η καρδιά σου; Με τη βοήθεια της δασκάλας ή του δασκάλου σου σημείωσε τη θέση της στο σκίτσο.



Παρατήρηση






Πείραμα

0 1 2 3 4 5 6 7 8 9 10 11 12 13 14

Πίεσε ελαφρά τον δείκτη και τον μέσο

- ◆ στο εσωτερικό του καρπού σου
- ◆ στον λαιμό σου
- ◆ κάτω από τον αστράγαλό σου

Τι παρατηρείς;



Παρατήρηση



Πείραμα

0 1 2 3 4 5 6 7 8 9 10 11 12 13 14

Για το πείραμα αυτό θα χρειαστείς ένα ρολόι με δευτερολεπτοδείκτη. Ζήτησε από έναν συμμαθητή ή μία συμμαθήτριά σου να μετράει τον χρόνο, ενώ εσύ μετράς τους σφυγμούς σου.

- ◆ Μέτρησε τους σφυγμούς σου για ένα λεπτό, ενώ κάθεσαι.
- ◆ Επανάλαβε τη μέτρηση, αφού κάνεις επί τόπου τροχάδην για μερικά λεπτά.

Παρατήρηση

- ◆ _____
- ◆ _____





Ζήτησε από τη δασκάλα ή τον δάσκαλό σου και από πέντε συμμαθητές ή συμμαθήτριές σου να σου πουν τα αποτελέσματα των δικών τους μετρήσεων και συμπλήρωσε τον παρακάτω πίνακα:

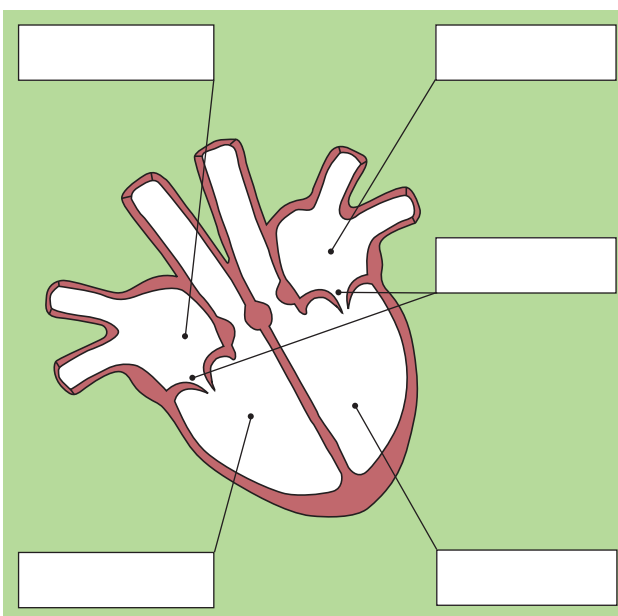
	ΟΝΟΜΑ	ΣΦΥΓΜΟΙ ΣΕ ΕΝΑ ΛΕΠΤΟ...	
		ΣΕ ΗΡΕΜΙΑ	ΜΕΤΑ ΑΠΟ ΤΡΟΧΑΔΗΝ
1	δασκάλα ή δάσκαλος		
2			
3			
4			
5			
6			



Συμπέρασμα



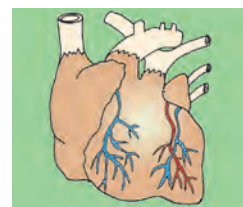
Συμπλήρωσε το συμπέρασμα χρησιμοποιώντας τις λέξεις: •σφυγμός •καρδιά •άσκηση
•ρυθμός



Παρατήρησε το σκίτσο της καρδιάς. Με τη βοήθεια της δασκάλας ή του δασκάλου σου σημείωσε στα κουτάκια τις ονομασίες των τμημάτων της καρδιάς. Χρωμάτισε με μπλε χρώμα τον δεξιό κόλπο και τη δεξιά κοιλία και με κόκκινο χρώμα τον αριστερό κόλπο και την αριστερή κοιλία.

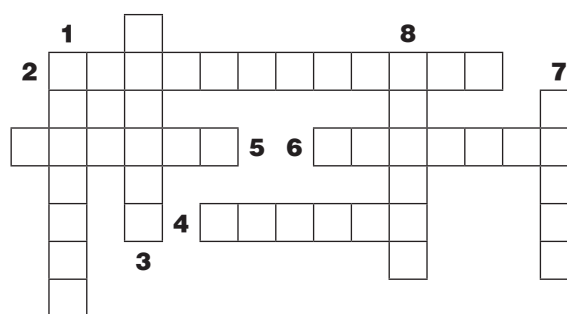
**ΕΡΓΑΣΙΕΣ ΓΙΑ ΤΟ ΣΠΙΤΙ**

1. Στα σκίτσα βλέπεις τις καρδιές δύο ζώων. Ποιο σκίτσο αντιστοιχεί στην αγελάδα και ποιο στο κουνέλι; Μπορείς να εξηγήσεις την απάντησή σου;



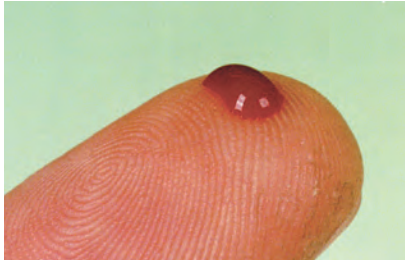
2. Λύσε το σταυρόλεξο

1. Τα δύο κάτω μέρη της καρδιάς ονομάζονται ...
2. Η καρδιά είναι το βασικότερο όργανο του ... μας συστήματος.
3. Η καρδιά βρίσκεται στο αριστερό μέρος του ...
4. Πιέζοντας τα δάχτυλά μας στο εσωτερικό του καρπού αισθανόμαστε τον ... μας.
5. Η ... είναι ένας μυς.
6. Ανάμεσα στους κόλπους και στις κοιλίες βρίσκεται από μία ...
7. Το τρίτο στάδιο του καρδιακού παλμού ονομάζεται καρδιακή ...
8. Τα δύο πάνω μέρη της καρδιάς ονομάζονται ...



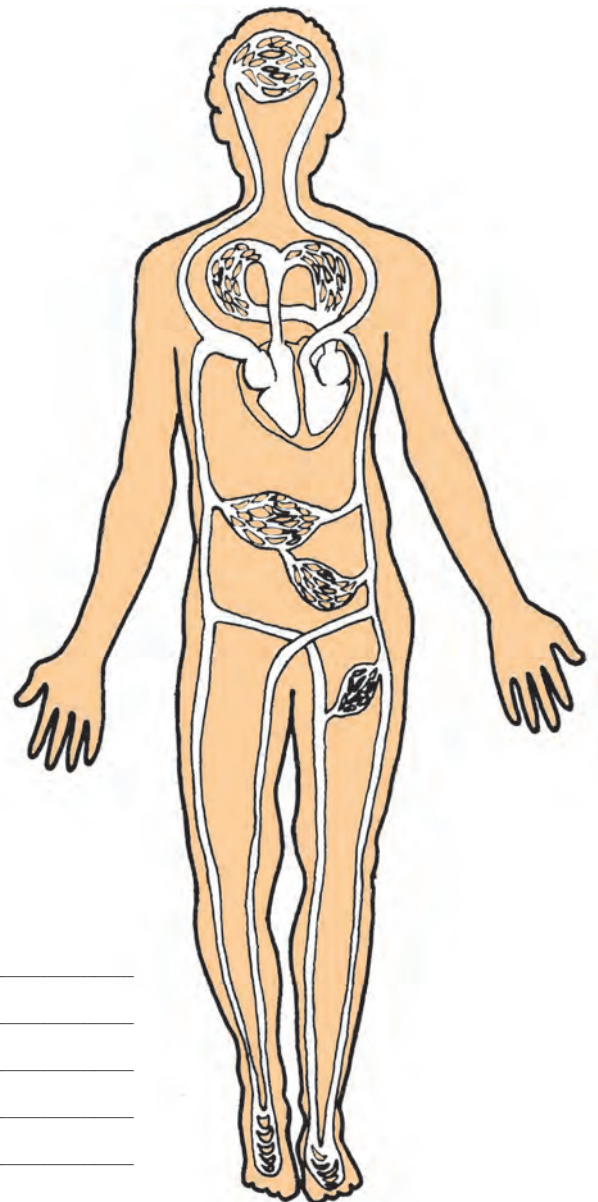


ΦΕ2: ΜΙΚΡΗ ΚΑΙ ΜΕΓΑΛΗ ΚΥΚΛΟΦΟΡΙΑ



Ακόμη και στον πιο μικρό τραυματισμό, σε οποιοδήποτε μέρος του σώματός μας, από την πληγή βγαίνει αίμα. Πώς όμως φτάνει το αίμα σε όλα τα σημεία του σώματός μας;

Παρατήρησε το σκίτσο του κυκλοφορικού συστήματος. Χρωμάτισε τις αρτηρίες με κόκκινο χρώμα, τις φλέβες με μπλε χρώμα και σημείωσε με βέλη τη ροή του αίματος. Στο σκίτσο η καρδιά είναι σχεδιασμένη μεγαλύτερη από το κανονικό, για να μπορείς να σημειώσεις πιο εύκολα τη ροή του αίματος.



Συμπέρασμα



Το κυκλοφορικό είναι ένα από τα πιο σημαντικά αλλά και τα πιο ευαίσθητα συστήματα του οργανισμού μας. Τα προβλήματα στο κυκλοφορικό σύστημα αποτελούν στη χώρα μας τη σημαντικότερη αιτία θανάτου από ασθένεια. Παρατήρησε τις παρακάτω εικόνες και συζήτησε με τους συμμαθητές και τις συμμαθήτριές σου για τις συνήθειες που συμβάλλουν στην καλή λειτουργία του κυκλοφορικού μας συστήματος.



Συμπέρασμα



Συμπλήρωσε το συμπέρασμα σημειώνοντας τους σημαντικότερους παράγοντες για την καλή λειτουργία του κυκλοφορικού μας συστήματος.

