


Δ' Ενότητα


Ελληνισμός εκτός συνόρων



Εικόνα 44 α: Η Μονή του Σινά



Εικόνα 44 β: Αμάσεια



Εικόνα 44 γ: Αγία Σοφία, Κωνσταντινούπολη

Στην ενότητα αυτή θα μάθετε για:

- ✓ το φυσικό περιβάλλον και τους κατοίκους της Κύπρου
- ✓ τον Ελληνισμό της Διασποράς
- ✓ τις ελληνικές εστίες της αρχαιότητας

Κύπρος: το φυσικό περιβάλλον

Στο κεφάλαιο αυτό θα μάθετε:

- για τη γεωγραφική θέση και τα κυριότερα γεωμορφολογικά στοιχεία της Κύπρου



Εικόνα 44.1: Χάρτης παραμεσόγειων χωρών



Παρατηρήστε τον παραπάνω χάρτη και προσδιορίστε τη θέση της Κύπρου ως προς την Ελλάδα. Μπορεί να θεωρηθεί η θέση της τόπος συνάντησης λαών από διαφορετικές ηπείρους; Σε ποιες ηπείρους είναι κοντά η Κύπρος;

Η Κύπρος βρίσκεται στην Ανατολική Μεσόγειο και είναι το τρίτο μεγαλύτερο νησί της μετά τη Σικελία και τη Σαρδηνία.

Το μεγαλύτερο μέρος του εδάφους της Κύπρου είναι ορεινό. Νοτιοδυτικά υψώνεται η οροσειρά Τρόδος με ψηλότερο βουνό τον Κυπριακό Όλυμπο. Βορειοανατολικά υψώνεται η οροσειρά του Πενταδάκτυλου. Ανάμεσα στις δύο αυτές οροσειρές εκτείνεται η πεδιάδα της Μεσαορίας (Μεσαριάς). Υπάρχουν και άλλες μικρές πεδιάδες και εύφορες κοιλάδες στο νησί.



Παρατηρήστε τον χάρτη της εικόνας 44.2 και βρείτε μεταξύ ποιων κόλπων εκτείνεται η πεδιάδα της Μεσαορίας.



Εικόνα 44.2: Γεωμορφολογικός χάρτης της Κύπρου



Ο οριζόντιος διαμελισμός της Κύπρου αποτελείται από πολλούς κόλπους, μία μεγάλη χερσόνησο και πολλές άλλες μικρές. Εντοπίστε τα στοιχεία αυτά στον χάρτη. Δείξτε και τις δύο μεγάλες οροσειρές της.

Το ποτάμιο σύστημα της Κύπρου αποτελείται από πολλά μικρά ποτάμια, τα περισσότερα από τα οποία έχουν τις πηγές τους στην οροσειρά του Τροόδους. Κατά μήκος των ποταμών οι Κύπριοι έχουν κατασκευάσει μικρά φράγματα και τεχνητές λίμνες, για να χρησιμοποιούν το νερό για ύδρευση και άρδευση.



Εντοπίστε τα ποτάμια της Κύπρου στον χάρτη της εικόνας 44.2 και βρείτε ποια από αυτά εκβάλλουν στον κόλπο της Μόρφου, της Αμμοχώστου και της Λεμεσού.

Το κλίμα της Κύπρου είναι μεσογειακό με θερμό, ξηρό καλοκαίρι και ήπιο χειμώνα.

Οι στίχοι του ποιητή Μαλένη παρουσιάζουν και μερικά στοιχεία που χαρακτηρίζουν το κλίμα της Κύπρου. Ας βρούμε τα στοιχεία αυτά, για να συμπληρώσουμε τα χαρακτηριστικά του κυπριακού κλίματος.

Γη του ξεραμένου λιβαδιού,
Γη της πικραμένης Παναγιάς,
Γη του λίβα, τ' άδικου χαμού,
τ' άγριου καιρού των Ηφαιστειών,
χρυσοπράσινο φύλλο ριγμένο στο Πέλαγος

Κεφάλαιο 44ο

Το κλίμα της Κύπρου ευνοεί την ανάπτυξη **δάσους**, που είναι το σπουδαιότερο μέρος της χλωρίδας του νησιού. Τα δάση επιδρούν ευεργετικά στο έδαφος, ενισχύουν την οικονομική ανάπτυξη του τόπου και συμβάλλουν στην ψυχαγωγία των κατοίκων. Τα δέντρα που αναπτύσσονται είναι το άγριο πεύκο, ο **κυπριακός κέδρος** (ενδημικό είδος), ο πλάτανος, η λεύκα, ο ασπάλαθος, το κυπαρίσσι, η αγριοκουμαριά, η λυγαριά κ.ά.

Στα κυπριακά δάση και ιδιαίτερα στο δάσος της Πάφου ζει το **αγρινό** ή **μουφλόν**, χαρακτηριστικό είδος της κυπριακής πανίδας. Είναι ένα ενδημικό είδος αγριοπρόβατου, που προστατεύεται αυστηρά από το Τμήμα Δασών της Κυβέρνησης της Κύπρου.



Εικόνα 44.3: Το αγρινό της Κύπρου



Ομαδική δραστηριότητα (προαιρετική)

Χωρισμένοι σε δύο ομάδες ας συγκεντρώσουμε περισσότερες πληροφορίες για την πλούσια χλωρίδα και την πολύ ενδιαφέρουσα πανίδα της Κύπρου. (Μην ξεχάσουμε το Αγρινό ή Μουφλόν.)

Αν θέλεις, διάβασε κι αυτό...

Κερίνεια, πόλη αγαπημένη...

Το θέαμα είναι μοναδικό. Ένας ζωγραφικός πίνακας ανεπανάληπτης τέχνης απλώνεται μπροστά στα μάτια μας. Όλα λούζονται στο φως του μαγιάτικου ήλιου. Η γαλάζια θάλασσα, τα δαντελωτά ακρογιάλια της Λάμπουσας και της Γλυκιώτισσας, οι καταπράσινοι κάμποι με τις ελιές, τις χαρουπιές και τις λεμονιές, οι βουνοπλαγιές με τα αγριολούλουδα, όλα ένα αρμονικό σύνολο χρωμάτων και σχημάτων. Και στο βάθος όνειρο γλυκύτατο, ξαπλωμένη ήρεμα στ' ακρογιάλι, η αιθέρια λεπτοκαμωμένη πόλη του Πράξανδρου μας περιμένει...

Επιτροπή Δασκάλων Λεμεσού
«Δεν ξεχνώ και αγωνίζομαι», σελ. 193-194

Κύπρος: το ανθρωπογενές περιβάλλον

Στο κεφάλαιο αυτό θα μάθετε:

♦ για τους κατοίκους της Κύπρου και τον πολιτισμό της



Εικόνα 45.1: Πολιτικός χάρτης της Κύπρου

Ο παραπάνω χάρτης της Κύπρου περιλαμβάνει μια διαχωριστική γραμμή, η οποία καθορίζει την κατανομή του πληθυσμού της από το 1974 κι έπειτα. Ας συζητήσουμε μαζί για τον διαχωρισμό των Κυπρίων που προκαλεί αυτή η γραμμή, η «γραμμή του Αττίλα».

Η σύνθεση του πληθυσμού της Κύπρου συνδέεται με τη μακραίωνη πολιτική ιστορία του νησιού. Επηρεάζεται μάλιστα από τη μορφολογία του εδάφους και από τις πολιτικές εξελίξεις, οι οποίες επικράτησαν στο νησί τα τελευταία 26 χρόνια του 20ού αιώνα.

Πριν από το 1974 το μεγαλύτερο μέρος του πληθυσμού της Κύπρου ήταν οι Ελληνοκύπριοι, απόγονοι των αρχαίων Ελλήνων. Αυτοί εγκαταστάθηκαν στο νησί μετά τον Τρωικό Πόλεμο και δημιούργησαν πόλεις σε όλη την έκταση του νησιού. Στο νησί κατοικούσαν και Τούρκοι, πολύ λίγοι όμως σε σχέση με τους Έλληνες. Οι Τούρκοι αυτοί ήταν απόγονοι των Οθωμανών, οι οποίοι κατέλαβαν το νησί το 1571. Επίσης κατοικούσαν και οι Μαρωνίτες που ήρθαν από τη γει-

Κεφάλαιο 45ο

τονική Συρία και τον Λίβανο, οι Αρμένιοι, απόγονοι μεταναστών που έφθασαν στην Κύπρο την εποχή του Βυζαντίου, και οι Λατίνοι, απόγονοι των Φράγκων, των Βενετών και των Γενοβέζων που κατέκτησαν το νησί.

Εξαιτίας της γεωγραφικής της θέσης, η Κύπρος γνώρισε τη φραγγοκρατία, τη βενετοκρατία και την τουρκοκρατία. Το 1878 η Τουρκία παραχώρησε την Κύπρο στην Αγγλία, η οποία κράτησε το νησί στην κατοχή της μέχρι το 1960, έτος κατά το οποίο η Κύπρος ανακηρύχθηκε σε ανεξάρτητη δημοκρατία.

Ο πολιτισμός που αναπτύχθηκε στο νησί είχε έντονα τα χαρακτηριστικά του ελληνικού πολιτισμού, δηλαδή την ίδια γλώσσα, τα ίδια ήθη και έθιμα, την ίδια θρησκεία.



Εικόνα 45.2: Ωδείο Πάφου

Ας συζητήσουμε μαζί πώς στο κατεχόμενο τμήμα του νησιού τα πολιτιστικά μνημεία καταστράφηκαν και η σύνθεση του πληθυσμού άλλαξε δραματικά ύστερα από τον Ιούλιο του 1974.

Η Κύπρος σήμερα, μέλος της Ενωμένης Ευρώπης, αντιμετωπίζει σοβαρό πρόβλημα συμβίωσης των λαών της. Μετά την εισβολή των Τούρκων, στην τουρκική μειονότητα προστέθηκαν και οι έποικοι. Αυτοί είναι Τούρκοι που μεταφέρθηκαν από το εσωτερικό της Τουρκίας και εγκαταστάθηκαν στο νησί. Η εισβολή υποχρέωσε τους Ελληνοκύπριους κατοίκους του βόρειου τμήματος του νησιού να εγκαταλείψουν τα σπίτια και τις περιουσίες τους και να συγκεντρωθούν στις νότιες περιοχές. Διακόσιες χιλιάδες Ελληνοκύπριοι έγιναν πρόσφυγες μέσα στην ίδια τους τη χώρα, ενώ πολλές χιλιάδες άνθρωποι έχασαν τη ζωή τους ή έπαψαν να δίνουν σημεία ζωής (αγνοούμενοι).



Συζητήστε μεταξύ σας τα προβλήματα που αντιμετωπίζουν οι άνθρωποι, όταν ξαφνικά κάποιος τους υποχρεώνει να γίνουν πρόσφυγες. Τι θα έπρεπε να κάνει η διεθνής κοινότητα μπροστά σ' αυτή την αδικία;

Σήμερα στην Κύπρο το μεγαλύτερο μέρος του πληθυσμού είναι συγκεντρωμένο στις μεγάλες πόλεις είτε λόγω της αστυφιλίας είτε εξαιτίας των πολιτικών εξελίξεων.

Οι μεγαλύτερες πόλεις της Κύπρου είναι: η Λευκωσία (η πρωτεύουσα), η Λεμεσός, η Λάρνακα, η Πάφος και η Κερύνεια.



Εντοπίστε τις πόλεις αυτές στον χάρτη της Κύπρου. Ποιες από αυτές, αν και δημιουργήθηκαν από τους Έλληνες, δεν τους ανήκουν;



Εικόνα 45.3: Λάρνακα.
Ο δρόμος με τις φοινικούδες



Εικόνα 45.4: Λεμεσός



Εικόνα 45.5: Μονή Κύκκου



Ομαδική δραστηριότητα (προαιρετική)

Διαμορφώνουμε προτάσεις για μια ειρηνική συμβίωση των Ελληνοκυπρίων και των Τουρκοκυπρίων σήμερα.

Αν θέλεις, διάβασε κι αυτό...

Οι κάτοικοι της Κύπρου

Οι Έλληνες ήρθαν για πρώτη φορά στην Κύπρο τουλάχιστον 1400 χρόνια πριν από τη γέννηση του Χριστού. Εγκαταστάθηκαν στο νησί και έχτισαν πολλές πόλεις: τη Σαλαμίνα, την Πάφο, τη Λάπηθο, την Αίπεια, το Ιδάλιο και άλλες. Με τον τρόπο αυτό κυριάρχησαν στο νησί και με το πέρασμα των χρόνων η Κύπρος έγινε ένα ελληνικό νησί.

Οι Τούρκοι κατέκτησαν την Κύπρο το 1571 μ.Χ., δηλαδή 3000 χρόνια μετά τον ερχομό των Ελλήνων. Έφεραν στο νησί αρκετούς Τούρκους στρατιώτες με τις οικογένειές τους και κατοίκησαν στις πλούσιες περιοχές του νησιού.

Οι πρώτοι Μαρωνίτες ήρθαν στην Κύπρο από τον Λίβανο τον όγδοο αιώνα μ.Χ. για να γλιτώσουν από τις αραβικές επιδρομές.

Οι πιο πολλοί Αρμένιοι ήρθαν στο νησί μετά τη μεγάλη σφαγή των Αρμενίων στην Τουρκία το 1915. Όλοι κατοικούν στις πόλεις και ασχολούνται με το εμπόριο. Οι κάτοικοι της Κύπρου ζούσαν αρμονικά για πολλά χρόνια, αλλά η κατάσταση άλλαξε με την τουρκική εισβολή το 1974, η οποία δημιούργησε πολλά προβλήματα στις σχέσεις των κοινοτήτων.

«Γνωρίζω το περιβάλλον μου», Γεωγραφία Δ' Δημοτικού Κύπρου

Ο ελληνισμός της διασποράς

Στο κεφάλαιο αυτό θα μάθετε:

- για τους Έλληνες, που κατοικούν σε πολλά σημεία του κόσμου



Εικόνα 46.1: Η πορεία του Μ. Αλεξάνδρου

Η παραπάνω εικόνα παρουσιάζει στοιχεία για την εξάπλωση του ελληνισμού στα χρόνια του Μεγάλου Αλεξάνδρου. Ας συζητήσουμε μαζί γι' αυτή την ικανότητα της ελληνικής φυλής να αναζητά το νέο και να δημιουργεί σε κάθε σημείο του πλανήτη μας.

Από την εποχή του Ιάσονα και του Μεγάλου Αλεξάνδρου οι Έλληνες αναζητούσαν νέους τόπους για να εγκατασταθούν. Εκεί ίδρυσαν πόλεις, ανέπτυσαν το εμπόριο και τις τέχνες και μετέδιδαν στοιχεία του πνεύματος και του πολιτισμού τους στους γειτονικούς λαούς. Ακόμη και σήμερα, όταν οι Έλληνες εγκαθίστανται σε άλλα κράτη, αναπτύσσουν επιχειρήσεις, έχουν επιτυχημένη επιστημονική και κοινωνική σταδιοδρομία και εκπροσωπούν επάξια τη χώρα μας. Κατά την τελευταία δεκαετία, σχεδόν πέντε εκατομμύρια πατριώτες μας ζουν έξω από την πατρίδα. Αυτοί είναι οι Έλληνες της διασποράς ή οι Απόδημοι Έλληνες.



Συζητήστε μεταξύ σας σε ποιες χώρες γνωρίζετε ότι κατοικούν Έλληνες. Μιλήστε για τους συγγενείς σας που πιθανόν έχετε σε μία άλλη χώρα.

Οι σημερινοί Έλληνες της διασποράς, οι ομογενείς μας, αποτελούνται και από Έλληνες δεύτερης και τρίτης γενιάς. Είναι τα παιδιά και τα εγγόνια των Ελλήνων που έφυγαν από την Ελλάδα μετά τον Δεύτερο Παγκόσμιο Πόλεμο. Η πολύ κακή οικονομική κατάσταση της χώρας μας και οι πολιτικές διαφωνίες που επικρατούσαν τους οδήγησαν στην αναζήτηση μιας καλύτερης ζωής στην Αμερική, στην Αυστραλία, στη Γερμανία, στη Ρωσία και σε άλλες χώρες.



Εικόνα 46.2: Έλληνες στη Νότια Αφρική



Εικόνα 46.3: Έλληνες στην Αγγλία διαδηλώνουν για το Κυπριακό

Μπορεί οι ομογενείς μας να έχουν ενσωματωθεί στις κοινωνίες των χωρών που εγκαταστάθηκαν, δεν ξεχνούν όμως ποτέ τη μητέρα-πατρίδα. Η Ελλάδα σε κάθε δύσκολη στιγμή έχει συμπαραστάτες τα παιδιά της που ζουν μακριά. Με διαδηλώσεις, με ισχυρές παρεμβάσεις στις κυβερνήσεις των χωρών τους, δυνατότητα την οποία έχουν λόγω της οικονομικής και κοινωνικής θέσης τους, βοηθούν τη χώρα μας να αντιμετωπίσει τα σοβαρά προβλήματα που πολλές φορές παρουσιάζονται. Κύριος οργανισμός που συντονίζει την επικοινωνία με τους Έλληνες της Διασποράς και τις δραστηριότητές τους είναι η Γενική Γραμματεία Απόδημου Ελληνισμού.

Ας συζητήσουμε μαζί με ποιους τρόπους η Ελλάδα πρέπει να βοηθήσει τους ομογενείς μας, ώστε και οι επόμενες γενιές να διατηρήσουν την ελληνικότητά τους.

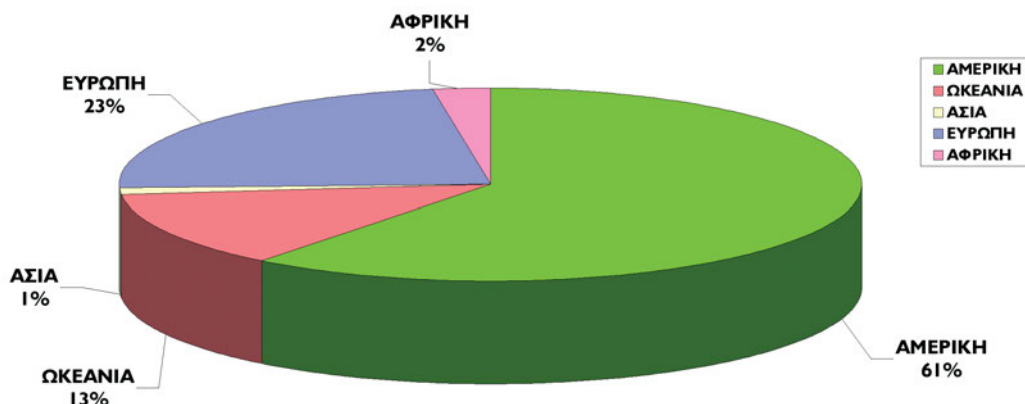


Εικόνα 46.4: 25η Μαρτίου στο Γιοχάνεσμπουργκ



Συζητήστε μεταξύ σας ποια από τα μαθήματα που κάνετε εσείς στο σχολείο σας θα πρέπει να διδάσκονται στα Ελληνόπουλα της διασποράς.

Πληθυσμιακή Κατανομή του Απόδημου Ελληνισμού



Εικόνα 46.5: Κατανομή του Απόδημου Ελληνισμού στις ηπείρους



Ομαδική δραστηριότητα (προαιρετική)

Παρατηρούμε την εικόνα 46.5 και ερευνάμε τους λόγους για τους οποίους το μεγαλύτερο ποσοστό του Απόδημου Ελληνισμού είναι συγκεντρωμένο στην αμερικανική ήπειρο. Εκτός από τις πηγές που θα μας προτείνει η δασκάλα ή ο δάσκαλός μας, ας ζητήσουμε και τη βοήθεια των παππούδων ή των γιαγιάδων μας.

Αν θέλεις, διάβασε κι αυτό...

Ο ελληνοισμός του Πόντου στην αρχαιότητα

Οι Έλληνες πριν από τον 8ο αιώνα π.Χ. απηφώντας τους κινδύνους πέρασαν στον Εύξεινο Πόντο και έφθασαν στις παράλιες περιοχές του αναζητώντας πολύτιμα μέταλλα, όπως το χρυσάφι. Εκεί δημιούργησαν μεγάλες πόλεις-αποικίες, την Ηράκλεια, την Τραπεζούντα, τη Σινώπη, την Κερασούντα, την Αμισό, τα Κοτύωρα κ.ά.

Οι πόλεις ιδρύθηκαν κατά μήκος ενός παράλιου δρόμου και απετέλεσαν κέντρα εμπορίου με το εσωτερικό της Μικράς Ασίας, με τους λαούς των παραλίων του Εύξεινου Πόντου και τους Έλληνες της Ελλάδας. Περικυκλωμένες από βαρβαρικά ιθαγενή φύλα απέκρουαν κάθε τόσο τις επιθέσεις τους χάρη στη δύναμη των όπλων και στην αίγλη του ανώτερου πολιτισμού τους.

«Ο ελληνοισμός της Μαύρης Θάλασσας», Επτά Ημέρες

Το ελληνικό στοιχείο στις αρχαίες ελληνικές εστίες

Στο κεφάλαιο αυτό θα μάθετε:

- ορισμένα στοιχεία της ζωής των Ελλήνων στις αρχαίες ελληνικές εστίες, που βρίσκονται μακριά από την Ελλάδα



Εικόνα 47.1: Γκαλιτσιανό, Ιταλία

Ήταν ένα πρωινό ενός ταξιδιού στα χωριά της Νότιας Ιταλίας, τα παιδιά είχαν διάλειμμα στο σχολείο, μπήκα στο προαύλιο και άκουσα «ήντα είστε εσείς;» ρίγος με διαπέρασε, είναι πράγματι απόγονοι των αρχαίων Ελλήνων ...

Μαρία Σωτηράκου



Εικόνα 47.2: Γκαρνί Αρμενίας. Ελληνικός ναός 1ου μ.Χ. αι.

Η εικόνα 47.1 και το κείμενο δείχνουν τη διατήρηση του ελληνισμού στις εστίες που δημιούργησαν οι πρόγονοί μας, όταν αναζητούσαν μια νέα ζωή μακριά από την πατρίδα. Ας συζητήσουμε μαζί τα ελληνικά χαρακτηριστικά στοιχεία της καθημερινής ζωής των κατοίκων αυτών των περιοχών, τα οποία διατηρούνται για πολλούς αιώνες, παρόλο που οι άνθρωποι αυτοί μπορεί και να μη γνωρίζουν αρκετά στοιχεία για την Ελλάδα.

Σήμερα οι κάτοικοι των αρχαίων ελληνικών εστιών σε πολλά σημεία του πλανήτη μας γνωρίζουν από τους παππούδες και τις γιαγιάδες τους ιστορίες για μια όμορφη πατρίδα. Έχουν ακούσει για ένα όνειρο επιστροφής που ποτέ δεν πραγματοποιήθηκε και αυτοί εξακολουθούν να τραγουδάνε τα τραγούδια της πατρίδας αυτής και να χορεύουν τους χορούς της.

Κεφάλαιο 47ο



Εικόνα 47.3: Χάρτης κατανομής των αρχαίων ελληνικών εστίων



Σημείωση:

Οι μικρότεροι χάρτες α, β, γ αποτελούν μεγεθύνσεις του χάρτη της εικόνας 47.3, όπου φαίνονται οι ελληνικές εστίες κατά την αρχαιότητα.

Το ελληνικό κράτος, με την πραγματοποίηση πολιτιστικών εκδηλώσεων και την αδελφοποίηση των πόλεων μεταξύ τους, προσπαθεί να διατηρήσει την επαφή με εκείνους τους Έλληνες, οι οποίοι δεν είναι Έλληνες της διασποράς, αλλά «σύγχρονοι Έλληνες της αρχαιότητας».



Το σχολείο σας αποφάσισε να αδελφοποιηθεί με ένα σχολείο της περιοχής της Αρμενίας, όπου υπάρχουν ελληνικές εστίες. Συζητήστε ενέργειες που θα προτείνετε σ' εκείνα παιδιά, για να διατηρήσετε μια σχέση σταθερή και αδελφική.

Η Αλεξάνδρεια και η Έφεσος είναι δύο από τις αρχαίες ελληνικές εστίες. Ας συζητήσουμε μαζί τα ελληνικά στοιχεία, τα οποία εξακολουθούν να υπάρχουν στις πόλεις αυτές με το πέρασμα των αιώνων.



Εικόνα 47.4: Η βιβλιοθήκη της Αλεξάνδρειας



Εικόνα 47.5: Η αρχαία Έφεσος



Ομαδική δραστηριότητα (προαιρετική)

Όλοι μαζί συγκεντρώνουμε τραγούδια και φωτογραφίες από τις αρχαίες ελληνικές εστίες, ώστε να φτιάξουμε κολάζ για τη ζωή των «σύγχρονων Ελλήνων της αρχαιότητας».