



ΘΕΡΜΟΤΗΤΑ



ΦΕ1: ΤΟ ΘΕΡΜΟΜΕΤΡΟ




Πολλές φορές εκτιμάμε τη θερμοκρασία με τις αισθήσεις μας. Ακουμπάμε κάποιον στο μέτωπο, για να καταλάβουμε αν έχει πυρετό. Πλησιάζουμε τα χέρια στον φούρνο, για να καταλάβουμε αν λειτουργεί. Από το χρώμα ενός μετάλλου μπορούμε κάποιες φορές να καταλάβουμε αν είναι πολύ ζεστό. Είναι όμως η εντύπωση που σχηματίζουμε πάντα σωστή;



0 1 2 3 4 5 6 7 8 9 10 11 12 13 14

Πείραμα




Γέμισε τρεις λεκάνες με νερό. Στην πρώτη βάλε κρύο, στη δεύτερη χλιαρό και στην τρίτη ζεστό νερό. Βάλε το ένα σου χέρι στη λεκάνη με το κρύο και το άλλο σ' αυτή με το ζεστό νερό. Μετά από λίγο βύθισε και τα δύο χέρια σου στη λεκάνη με το χλιαρό νερό. Τι παρατηρείς;



Παρατήρηση



Συμπέρασμα



Για να μετρήσουμε τη θερμοκρασία με ακρίβεια, χρησιμοποιούμε ειδικά όργανα, τα θερμόμετρα. Στις εικόνες βλέπεις έναν γνωστό τύπο θερμομέτρων, στα οποία η ένδειξη δίνεται από κάποιο υγρό. Συνήθως χρησιμοποιούμε υδράργυρο ή χρωματισμένο οινόπνευμα. Τα θερμόμετρα υδραργύρου και τα θερμόμετρα οινόπνευματος μπορεί να περιέχουν διαφορετικό υγρό και να έχουν διαφορετικό σχήμα, έχουν όμως όλα:

1. _____
2. _____
3. _____



Πείραμα

0 1 2 3 4 5 6 7 8 9 10 11 12 13 14

Βάλε μερικά παγάκια σε ένα δοχείο με λίγο νερό. Ανακάτεψε καλά με ένα μολύβι. Αν λιώσουν όλα τα παγάκια, πρόσθεσε μερικά ακόμη, ώστε να υπάρχουν στο ποτήρι συγχρόνως παγάκια και νερό. Χρησιμοποιώντας το θερμόμετρο, μέτρησε τη θερμοκρασία του πάγου που λιώνει.



Παρατήρηση



0 1 2 3 4 5 6 7 8 9 10 11 12 13 14

Πείραμα

Η δασκάλα ή ο δάσκαλός σου βράζει νερό σε ένα δοχείο. Με ένα θερμόμετρο μετρά τη θερμοκρασία του νερού που βράζει.



Παρατήρηση

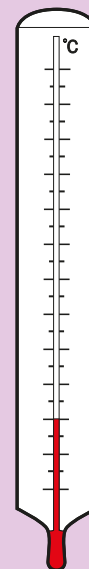


Συμπέρασμα

Με τη βοήθεια της δασκάλας ή του δασκάλου σου συμπλήρωσε την κλίμακα Celsius στο θερμόμετρο.

Τι θερμοκρασία δείχνει το θερμόμετρο στο σκίτσο; _____ °C.

Μπορείς τώρα να περιγράψεις με λίγα λόγια τον τρόπο με τον οποίο εργάστηκε ο Celsius;



◀ Θερμοκρασία στην οποία βράζει το νερό

◀ Θερμοκρασία στην οποία λιώνει ο πάγος

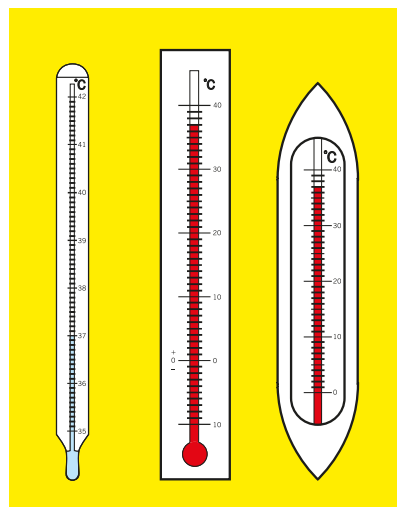


ΕΡΓΑΣΙΕΣ ΓΙΑ ΤΟ ΣΠΙΤΙ

- Μπορούμε να εκτιμήσουμε με τις αισθήσεις μας τη θερμοκρασία, έστω και με μικρή ακρίβεια, σε όλες τις περιπτώσεις; Μπορείς να εξηγήσεις την απάντησή σου;



- Στα θερμόμετρα της φωτογραφίας η στάθμη του υγρού δεν είναι στο ίδιο ύψος. Δείχνουν τα θερμόμετρα διαφορετική θερμοκρασία; Μπορείς να εξηγήσεις την απάντησή σου;



- Ο Γιάννης και ο Νίκος θέλουν να μετρήσουν τη θερμοκρασία του εδάφους. Ποιος από τους δύο εργάζεται λανθασμένα; Ποιο είναι το λάθος που κάνει;



Γιάννης



Νίκος



ΦΕ2: ΘΕΡΜΟΚΡΑΣΙΑ - ΘΕΡΜΟΤΗΤΑ: ΔΥΟ ΕΝΝΟΙΕΣ ΔΙΑΦΟΡΕΤΙΚΕΣ



Υπάρχουν πολλοί διαφορετικοί τρόποι για να θερμάνουμε ένα υγρό. Συνήθως χρησιμοποιούμε το μάτι της ηλεκτρικής κουζίνας ή το καμινέτο. Μπορούμε όμως και να αφήσουμε το υγρό για κάποιο χρονικό διάστημα στον ήλιο. Ακόμη κι αν το ανακατέψουμε για αρκετή ώρα, θα το θερμάνουμε λίγο. Σε όλες τις περιπτώσεις χρειαζόμαστε ενέργεια.



0 1 2 3 4 5 6 7 8 9 10 11 12 13 14

Πείραμα



Πού πάει η ενέργεια;



Η δασκάλα ή ο δάσκαλός σου θερμάνει νερό σ' ένα δοχείο. Μέτρα τη θερμοκρασία κάθε λεπτό και συμπλήρωσε την παρατήρησή σου στον πίνακα της επόμενης σελίδας.



Παρατήρηση

ΜΕΤΑ ΑΠΟ...	ΘΕΡΜΟΚΡΑΣΙΑ
1 λεπτό	
2 λεπτά	
3 λεπτά	
4 λεπτά	
5 λεπτά	




Συμπέρασμα



Συμπλήρωσε το συμπέρασμα χρησιμοποιώντας τις λέξεις: •αέριο που καίγεται •ενέργεια
•νερό •θερμοκρασία

Πού πάει επιτέλους η ενέργεια;



Πείραμα

0 1 2 3 4 5 6 7 8 9 10 11 12 13 14

Τοποθέτησε το μικρό δοχείο με το ζεστό νερό από το προηγούμενο πείραμα μέσα σε ένα μεγαλύτερο δοχείο που το έχεις γεμίσει με κρύο νερό. Με δύο θερμομέτρα παρακολούθησε τη μεταβολή της θερμοκρασίας του νερού στα δύο δοχεία. Σημείωσε τις μετρήσεις σου στον πίνακα.





Παρατήρηση

ΜΕΤΑ ΑΠΟ...	ΘΕΡΜΟΚΡΑΣΙΑ ΣΤΟ ΜΙΚΡΟ ΔΟΧΕΙΟ	ΘΕΡΜΟΚΡΑΣΙΑ ΣΤΟ ΜΕΓΑΛΟ ΔΟΧΕΙΟ
1 λεπτό		
2 λεπτά		
3 λεπτά		
4 λεπτά		
5 λεπτά		



Συμπέρασμα

- ◆ στο μικρό δοχείο: _____
- _____
- ◆ στο μεγάλο δοχείο: _____
- _____



Συμπλήρωσε το συμπέρασμα χρησιμοποιώντας τις λέξεις: •ενέργεια •παίρνει •δίνει •θερμοκρασία
Σημείωσε ξεχωριστά τι συμβαίνει στο μικρό και τι στο μεγάλο δοχείο.

Την **ενέργεια** που ρέει από ένα σώμα σε ένα άλλο λόγω της διαφορετικής τους θερμοκρασίας την ονομάζουμε **θερμότητα**. Παρατήρησε τις παρακάτω φωτογραφίες και σχεδίασε ένα βέλος που να δείχνει τη ροή της θερμότητας.



**Συμπέρασμα**

Η ενέργεια στον μονόδρομο!

Η θερμότητα ρέει από τα _____ στα _____ σώματα.

**ΕΡΓΑΣΙΕΣ ΓΙΑ ΤΟ ΣΠΙΤΙ**

1. Τοποθετούμε μία κατσαρόλα με νερό πάνω στο μάτι της ηλεκτρικής κουζίνας. Εξήγησε τι ακριβώς συμβαίνει χρησιμοποιώντας τις λέξεις «θερμοκρασία» και «θερμότητα».

2. Συμπλήρωσε τις παρακάτω προτάσεις με τις λέξεις «θερμοκρασία» και «θερμότητα».

- ◆ Ο Ήλιος δίνει _____ στη Γη.
- ◆ Όταν ζεσταίνουμε νερό στο μάτι της ηλεκτρικής κουζίνας, ρέει _____ από το μέταλλο στο νερό. Η _____ του νερού αυξάνεται.
- ◆ Με το θερμόμετρο μετράμε τη _____ των σωμάτων.

3. Σε ποιο από τα δύο ποτήρια έχει το νερό περισσότερη ενέργεια; Αν τοποθετήσουμε το μικρό ποτήρι μέσα στο μεγάλο, ποια θα είναι η ροή της θερμότητας;



4. Σε ποιο από τα δύο ποτήρια έχει το νερό περισσότερη ενέργεια; Αν τοποθετήσουμε το μικρό ποτήρι μέσα στο μεγάλο, ποια θα είναι η ροή της θερμότητας;





ΦΕ3: ΤΗΞΗ ΚΑΙ ΠΗΞΗ



Παρατήρησε την εικόνα.
Σε ποια φυσική κατάσταση
βρίσκεται η σοκολάτα;



0 1 2 3 4 5 6 7 8 9 10 11 12 13 14

Πείραμα

Όργανα - Υλικά

μπρίκι
νερό
παγάκια
κουταλάκι
κερί
πλαστελίνη
θερμόμετρο



Βάλε στο μπρίκι λίγο νερό και πρόσθεσε δύο μεγάλα παγάκια. Ανακάτεψε καλά με το κουταλάκι. Στερέωσε ένα κερί στο θρανίο σου με πλαστελίνη και άναψέ το. Κράτησε το μπρίκι πάνω από τη φλόγα του κεριού και μέτρα τη θερμοκρασία στο μπρίκι κάθε δύο λεπτά. Ανακάτεψε το νερό όση ώρα μετράς τη θερμοκρασία. Τι παρατηρείς;



ΜΕΤΑ ΑΠΟ...	ΘΕΡΜΟΚΡΑΣΙΑ
2 λεπτά	
4 λεπτά	
6 λεπτά	
8 λεπτά	
10 λεπτά	
12 λεπτά	
14 λεπτά	

 Παρατήρηση

Συμπέρασμα



Συμπλήρωσε το συμπέρασμα χρησιμοποιώντας τις λέξεις: •στερεό •θερμότητα •φυσική κατάσταση •υγρό •τήξη •θερμοκρασία



Πείραμα

0 1 2 3 4 5 6 7 8 9 10 11 12 13 14



Το πείραμα αυτό πρέπει να το κάνεις στο σπίτι σου. Γέμισε μία παγοθήκη με νερό και τοποθέτησέ τη στην κατάψυξη. Μέτρα τη θερμοκρασία του νερού στην παγοθήκη κάθε πέντε λεπτά. Τι παρατηρείς;



ΜΕΤΑ ΑΠΟ...	ΘΕΡΜΟΚΡΑΣΙΑ
5 λεπτά	
10 λεπτά	
15 λεπτά	
20 λεπτά	
25 λεπτά	
30 λεπτά	



 Παρατήρηση

Συμπέρασμα




Συμπλήρωσε το συμπέρασμα χρησιμοποιώντας τις λέξεις: •υγρό •θερμότητα •φυσική κατάσταση •στερεό •πήξη •θερμοκρασία



ΕΡΓΑΣΙΕΣ ΓΙΑ ΤΟ ΣΠΙΤΙ

- Μπορείς να σημειώσεις στα πλαίσια τη φυσική κατάσταση της σοκολάτας και στα βέλη τις ονομασίες για τις μετατροπές στη φυσική της κατάσταση;





2. Στην πρώτη στήλη του πίνακα περιγράφονται μετατροπές της φυσικής κατάστασης ορισμένων σωμάτων. Σε ποιες περιπτώσεις περιγράφεται η τήξη ενός σώματος και σε ποιες η πήξη του; Μπορείς να απαντήσεις στην ερώτηση σημειώνοντας ένα ✓ στην αντίστοιχη στήλη;

ΠΕΡΙΓΡΑΦΗ	ΤΗΞΗ	ΠΗΞΗ
Βάζουμε λίγο βούτυρο στο τηγάνι, που βρίσκεται στο μάτι της ηλεκτρικής κουζίνας.		
Γεμίζουμε την παγοθήκη με νερό και την τοποθετούμε στην κατάψυξη.		
Οι εργάτες στρώνουν τον δρόμο με λιωμένη πίσσα και την αφήνουν να κρυώσει.		
Αφήνουμε στον ήλιο ένα ποτήρι με παγάκια.		
Η κυρία βάζει στο ψυγείο τα μπολάκια με τη ζεστή κρέμα που μόλις ετοίμασε.		
Βάζουμε στο ψυγείο το βούτυρο που έχει λιώσει.		



3. Ποια μετατροπή στη φυσική κατάσταση του κεριού παρατηρούμε, όταν το ανάβουμε και ποια, όταν το σβήνουμε;





ΦΕ4: ΕΞΑΤΜΙΣΗ ΚΑΙ ΣΥΜΠΥΚΝΩΣΗ

Τα μαλλιά μας στεγνώνουν μετά το λούσιμο, ακόμη κι αν δεν τα σκουπίσουμε. Αν μάλιστα τα φυσά ζεστός αέρας, στεγνώνουν πολύ πιο γρήγορα. Γιατί άραγε συμβαίνει αυτό;



0 1 2 3 4 5 6 7 8 9 10 11 12 13 14

Πείραμα

Με ένα σταγονόμετρο ρίξε μία σταγόνα οινόπνευμα στο θρανίο σου. Παρατήρησε τη σταγόνα για μερικά λεπτά.



Παρατήρηση

Συμπέρασμα



Συμπλήρωσε το συμπέρασμα χρησιμοποιώντας τις λέξεις: •υγρό •θερμότητα •φυσική κατάσταση •αέριο •εξάτμιση



Πείραμα

0 1 2 3 4 5 6 7 8 9 10 11 12 13 14

Βάλε σε ένα ποτήρι νερό και μερικά παγάκια. Σκούπισε καλά το εξωτερικό μέρος του ποτηριού και σκέπασέ το με ένα χαρτόνι. Τι παρατηρείς μετά από μερικά λεπτά;

Παρατήρηση

Συμπέρασμα



Συμπλήρωσε το συμπέρασμα χρησιμοποιώντας τις λέξεις: •αέριο •θερμότητα •φυσική κατάσταση •υγρό •συμπύκνωση




ΕΡΓΑΣΙΕΣ ΓΙΑ ΤΟ ΣΠΙΤΙ

- Μπορείς να εξηγήσεις γιατί στεγνώνουν τα μαλλιά μας πιο γρήγορα, όταν τα φυσά ζεστός αέρας;



- Γιατί θαμπώνουν τα τζάμια τον χειμώνα, όταν έξω κάνει κρύο;





ΦΕ5: ΒΡΑΣΜΟΣ

Τι θα συμβεί με το νερό, αν αφήσουμε την κατσαρόλα πολλή ώρα στο αναμμένο μάτι της κουζίνας;



0 1 2 3 4 5 6 7 8 9 10 11 12 13 14

Πείραμα



Η δασκάλα ή ο δάσκαλός σου έχει βάλει λίγο νερό σε ένα διάφανο πυρίμαχο δοχείο. Με έναν μαρκαδόρο έχει σημειώσει τη στάθμη του νερού στο δοχείο. Χρησιμοποιώντας ένα καμινέτο θερμαίνει το νερό στο δοχείο και μετρά τη θερμοκρασία του νερού κάθε δύο λεπτά. Αφού σβήσει το καμινέτο και περιμένει λίγο, για να κρυώσει το νερό, σημειώνει ξανά τη στάθμη του νερού στο δοχείο. Τι παρατηρείς;



 Παρατήρηση

ΜΕΤΑ ΑΠΟ...	ΘΕΡΜΟΚΡΑΣΙΑ
2 λεπτά	
4 λεπτά	
6 λεπτά	
8 λεπτά	
10 λεπτά	
12 λεπτά	
14 λεπτά	

Συμπέρασμα



Συμπλήρωσε το συμπέρασμα χρησιμοποιώντας τις λέξεις: •υγρό •θερμότητα •βρασμός
•αέριο •θερμοκρασία

Έχεις γνωρίσει μέχρι τώρα δύο φαινόμενα, στα οποία μέρος ενός υλικού αλλάζει φυσική κατάσταση και από υγρό γίνεται αέριο:

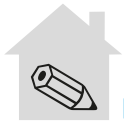


◆ _____



◆ _____

Συζήτησε με τη δασκάλα ή τον δάσκαλό σου για τη βασική διαφορά των δύο αυτών φαινομένων.




ΕΡΓΑΣΙΕΣ ΓΙΑ ΤΟ ΣΠΙΤΙ

1. Στην πρώτη στήλη του πίνακα περιγράφονται μετατροπές της φυσικής κατάστασης ορισμένων σωμάτων. Σε ποιες περιπτώσεις περιγράφεται η εξάτμιση ενός σώματος και σε ποιες ο βρασμός του; Μπορείς να απαντήσεις στην ερώτηση σημειώνοντας ένα ✓ στην αντίστοιχη στήλη;

ΠΕΡΙΓΡΑΦΗ	ΕΞΑΤΜΙΣΗ	ΒΡΑΣΜΟΣ
Η κυρία ετοιμάζει τη σούπα στην κατσαρόλα που βρίσκεται στο μάτι της ηλεκτρικής κουζίνας.		
Αφήνουμε τα βρεγμένα ξύλα στον ήλιο, για να στεγνώσουν.		
Ο κύριος πίνει το γάλα του καυτό. Αυτή τη φορά όμως το παράκανε. Άφησε το μπρίκι με το γάλα πάνω από δέκα λεπτά στο καμινέτο.		
Το παιδί βγαίνει από τη θάλασσα, αλλά δε σκουπίζεται. Ξαπλώνει στον ήλιο, για να στεγνώσει.		

2. Μπορείς να σημειώσεις στα πλαίσια τη φυσική κατάσταση του νερού και των υδρατμών και στα βέλη τις ονομασίες για τις μετατροπές στη φυσική κατάσταση;





ΦΕ6: ΘΕΡΜΑΙΝΟΝΤΑΣ ΚΑΙ ΨΥΧΟΝΤΑΣ ΤΑ ΣΤΕΡΕΑ



Παρατήρησε τη μικρή φωτογραφία. Ολόκληρη η γέφυρα στηρίζεται σε κυλίνδρους που βρίσκονται πάνω στις κολόνες. Σε τι χρησιμεύουν άραγε οι κύλινδροι αυτοί;



Πείραμα

0 1 2 3 4 5 6 7 8 9 10 11 12 13 14

Όργανα - Υλικά
κομμάτι ξύλο
μεγάλα καρφιά
κερί
ξύλινο μανταλάκι
κέρμα
ποτήρι
νερό



Ζήτησε από τη δασκάλα ή τον δάσκαλό σου να καρφώσει στην πάνω άκρη ενός ξύλου δύο καρφιά, έτσι ώστε το κέρμα ίσα - ίσα να περνά ανάμεσά τους. Πιάσε με το μανταλάκι το κέρμα από την άκρη του και θέρμανέ το με το κερί. Πρόσεξε να μην καεί το ξύλινο μανταλάκι.

- ◆ Όταν το κέρμα θερμανθεί, δοκίμασε να το αφήσεις να πέσει ανάμεσα από τα καρφιά.
- ◆ Γέμισε ένα ποτήρι με νερό και βούτηξε το κέρμα στο ποτήρι, για να κρυώσει. Δοκίμασε πάλι να το αφήσεις να πέσει ανάμεσα από τα καρφιά.



Παρατήρηση

- ◆ _____
- ◆ _____



Συμπέρασμα



Συμπλήρωσε το συμπέρασμα χρησιμοποιώντας τις λέξεις: ●στερεά ●παίρνουν ●δίνουν
●ενέργεια ●θερμαίνονται ●ψύχονται ●διαστέλλονται ●συστέλλονται



ΕΡΓΑΣΙΕΣ ΓΙΑ ΤΟ ΣΠΙΤΙ

1. Παρατήρησε τις φωτογραφίες της γέφυρας. Η μία της άκρη κινείται πάνω σε κυλίνδρους από ασάλι. Μπορείς να εξηγήσεις τη χρησιμότητα των κυλίνδρων;



2. Πότε τα σύρματα της ΔΕΗ είναι περισσότερο τεντωμένα, το χειμώνα ή το καλοκαίρι; Μπορείς να εξηγήσεις την απάντησή σου;



3. Η φωτογραφία που βλέπεις είναι από ένα ατύχημα που έγινε στην Ιταλία. Μπορείς να εξηγήσεις τους λόγους του ατυχήματος;



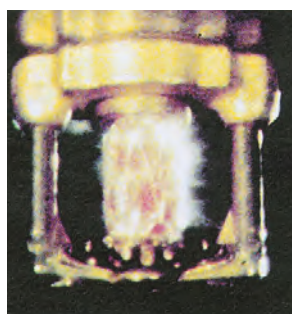


ΦΕ7: ΘΕΡΜΑΙΝΟΝΤΑΣ ΚΑΙ ΨΥΧΟΝΤΑΣ ΤΑ ΥΓΡΑ



Στη διπλανή φωτογραφία βλέπεις ένα στόμιο από ένα σύστημα αυτόματης πυρόσβεσης. Σε διάφορα σημεία πολλών κτηρίων τα στόμια αυτά τοποθετούνται στην άκρη σωλήνων, που τροφοδοτούνται με νερό ή ειδικό πυροσβεστικό υγρό. Η κόκκινη αμπούλα, που είναι κατασκευασμένη από λεπτό γυαλί και περιέχει ένα υγρό, φράζει την παροχή του νερού. Αν ξεσπάσει πυρκαγιά στο κτήριο, η θερμοκρασία ανεβαίνει πολύ. Τότε η αμπούλα σπάει και το νερό ή το πυροσβεστικό υγρό σβήνει τη φωτιά.

Γιατί όμως σπάει η αμπούλα με την αύξηση της θερμοκρασίας;



Πείραμα

0 1 2 3 4 5 6 7 8 9 10 11 12 13 14



Όργανα - Υλικά

νερό
νερομπογιά
μικρό μπουκαλάκι
καλαμάκι
πλαστελίνη
μεγάλο δοχείο
μαρκαδόρος

Χρωμάτισε με νερομπογιά λίγο νερό και γέμισε με αυτό μέχρι πάνω το μικρό μπουκαλάκι. Στερέωσε στο μπουκαλάκι με πλαστελίνη ένα καλαμάκι, όπως βλέπεις στην εικόνα. Σημείωσε τη στάθμη του νερού στο καλαμάκι. Τοποθέτησε το μπουκαλάκι στο μεγάλο δοχείο και ζήτησε από τη δασκάλα ή τον δάσκαλό σου να γεμίσει το μεγάλο δοχείο με ζεστό νερό. Σημείωσε με άλλο χρώμα τη στάθμη του νερού στο καλαμάκι. Βγάλε το μικρό μπουκαλάκι από το μεγάλο δοχείο και άφησέ το να κρυώσει. Τι παρατηρείς;

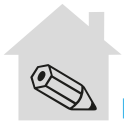


Παρατήρηση

Συμπέρασμα




Συμπλήρωσε το συμπέρασμα χρησιμοποιώντας: •υγρά •παίρνουν •δίνουν •ενέργεια •θερμαίνονται •ψύχονται •διαστέλλονται •συστέλλονται



ΕΡΓΑΣΙΕΣ ΓΙΑ ΤΟ ΣΠΙΤΙ

1. Μπορείς να συγκρίνεις το μπουκαλάκι με το καλαμάκι με ένα θερμόμετρο;



2. Μπορείς να εξηγήσεις γιατί σπάει η αμπούλα με το υγρό, αν αυξηθεί πολύ η θερμοκρασία;



3. Γιατί το καλοκαίρι δε γεμίζουμε τα βυτία μέχρι πάνω;





ΦΕ8: ΘΕΡΜΑΙΝΟΝΤΑΣ ΚΑΙ ΨΥΧΟΝΤΑΣ ΤΑ ΑΕΡΙΑ



Το «πνεύμα» του μπουκαλιού

Δοκίμασε κι εσύ να ξεγελάσεις τις φίλες ή τους φίλους σου με αυτό το τέχνασμα. Τοποθέτησε ένα άδειο γυάλινο μπουκάλι στην κατάψυξη για μία ώρα. Μόλις το βγάλεις από την κατάψυξη, βρέξε ένα κέρμα και τοποθέτησέ το στο στόμιο του μπουκαλιού. Πιάσε σφιχτά το μπουκάλι με τα δυο σου χέρια. «Το κέρμα ανασηκώνεται, καθώς το πνεύμα βγαίνει από το μπουκάλι», θα πεις και θα ακουστεί: κλικ, κλικ, κλικ... Σίγουρα δεν πιστεύεις στα πνεύματα! Μπορείς να εξηγήσεις γιατί ανασηκώνεται το κέρμα;




Πείραμα

0 1 2 3 4 5 6 7 8 9 10 11 12 13 14

Πέρασε στο στόμιο ενός γυάλινου μπουκαλιού ένα μπαλόνι. Τοποθέτησε το μπουκάλι πρώτα σε ζεστό και μετά σε κρύο νερό. Τι παρατηρείς; Συμπλήρωσε την εικόνα ζωγραφίζοντας αυτό που βλέπεις.



Παρατήρηση





Συμπέρασμα



Συμπλήρωσε το συμπέρασμα χρησιμοποιώντας τις λέξεις: ●αέρια ●παίρνουν ●δίνουν
●ενέργεια ●θερμαίνονται ●ψύχονται ●διαστέλλονται ●συστέλλονται



ΕΡΓΑΣΙΕΣ ΓΙΑ ΤΟ ΣΠΙΤΙ

1. Σίγουρα δεν πιστεύεις στα πνεύματα! Μπορείς να εξηγήσεις με λίγα λόγια τον θόρυβο που ακούγεται; Γιατί σταματά μετά από λίγο;



2. Τσαλάκωσες κατά λάθος ένα μπαλάκι του πιנגκ - πονγκ. Το παρατηρείς προσεκτικά και βλέπεις ότι δεν έχει τρυπήσει. Πώς μπορείς να το επισκευάσεις;



3. Ο κύριος στη φωτογραφία έχει ένα πρόβλημα. Δεν μπορεί να ανοίξει το δοχείο. Τι θα έκανες στη θέση του; Μπορείς να εξηγήσεις την απάντησή σου;

